



# Prueba de Acceso a la Universidad de Extremadura

## Curso 2007-08

Asignatura: GEOGRAFÍA DE ESPAÑA

Tiempo máximo de la prueba: 90 minutos

El alumno deberá elegir uno de los dos repertorios completos de examen, sin posibilidad de que se puedan combinar preguntas de ambos.

La puntuación total de cada uno de los repertorios será de 10 puntos, pudiendo modificarse en un punto la calificación final por la presentación, ortografía y calidad de redacción, a juicio del corrector.

### OPCIÓN A:

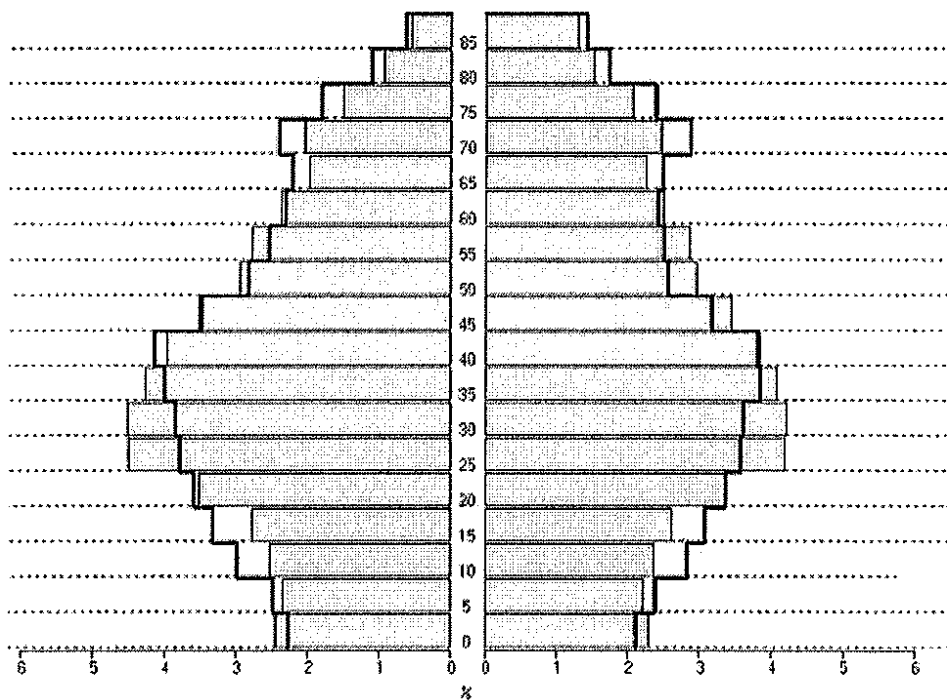
1.- Responda a uno de los temas siguientes:

**A.- Importancia de las actividades terciarias en España y Extremadura**

**B.- Las regiones del litoral mediterráneo.**

La respuesta se desarrollará, como máximo, en dos caras de folio, y se valorará con tres puntos.

2.- Según el siguiente gráfico, con las pirámides de **2005** de **España** (en barras) y de **Extremadura** (en perfil):







## Prueba de Acceso a la Universidad de Extremadura Curso 2007-08

OPCIÓN A (Continuación):

Asignatura: GEOGRAFÍA DE ESPAÑA

Tiempo máximo de la prueba: 90 minutos

- a).- Indique las características fundamentales de cada una de estas pirámides.  
b).- Explique sus diferencias y las causas que las han motivado.

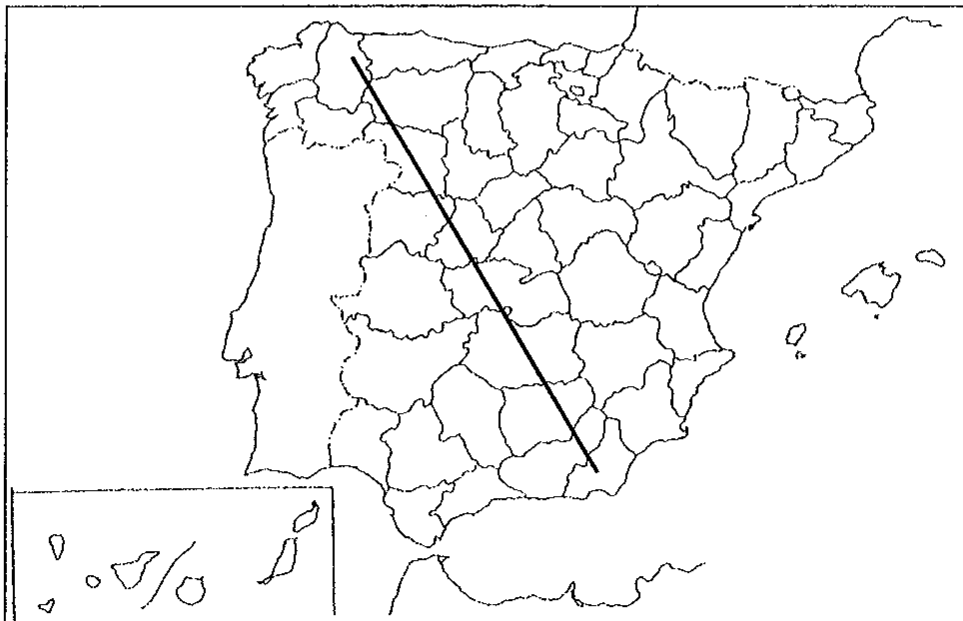
El comentario se desarrollará en la cara de un folio y se valorará con tres puntos.

3.- Defina brevemente los siguientes términos geográficos y ponga algún ejemplo en relación con ellos:

- Penillanura
- Anticiclón
- Dehesa
- Umbria
- PIB

Cada una de las respuestas se valorará con 0.4 puntos, hasta un total de dos puntos.

4.- En uno de los folios del examen, relacione –de NO a SE- las provincias atravesadas por la línea, así como los sistemas montañosos y los ríos principales



La respuesta se valorará con un máximo de dos puntos.





## Prueba de Acceso a la Universidad de Extremadura Curso 2007-08

Asignatura: GEOGRAFÍA DE ESPAÑA

Tiempo máximo de la prueba: 90 minutos

El alumno deberá elegir una de las dos opciones completas de examen, sin posibilidad de que se puedan combinar preguntas de ambos.

La puntuación total de cada una de las opciones será de 10 puntos, pudiendo modificarse en un punto la calificación final por la presentación, ortografía y calidad de redacción, a juicio del corrector.

### OPCIÓN B:

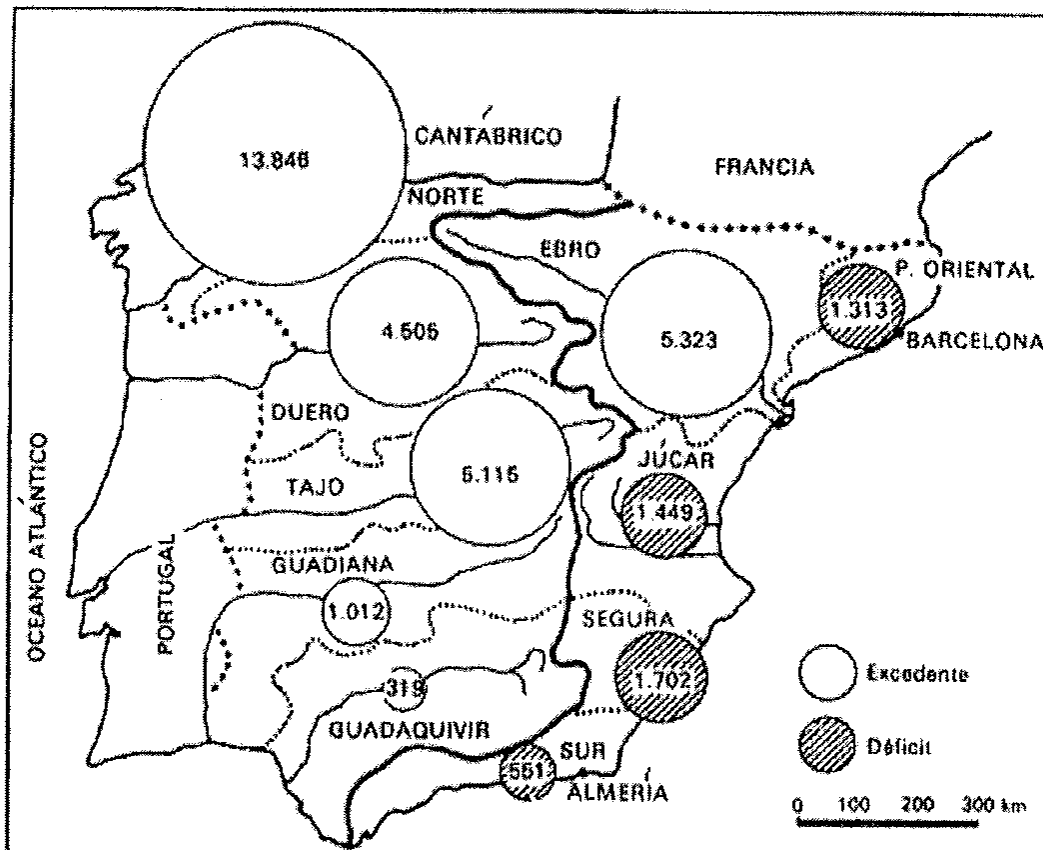
1.- Responda a uno de los temas siguientes:

A.- Actividad humana y problemas medioambientales en España

B.- El turismo en España y en Extremadura

La respuesta se desarrollará, como máximo, en dos caras de folio, y se valorará con tres puntos.

2.- A la vista del siguiente mapa, donde se representan las vertientes hidrográficas...







**Prueba de Acceso a la Universidad de Extremadura**  
**Curso 2007-08**

OPCIÓN B (Continuación):

Asignatura: GEOGRAFÍA DE ESPAÑA

Tiempo máximo de la prueba: 90 minutos

a).- Explique a qué se deben la diferencias entre las vertientes atlántica y mediterránea

b).- Señale las características de la vertiente mediterránea

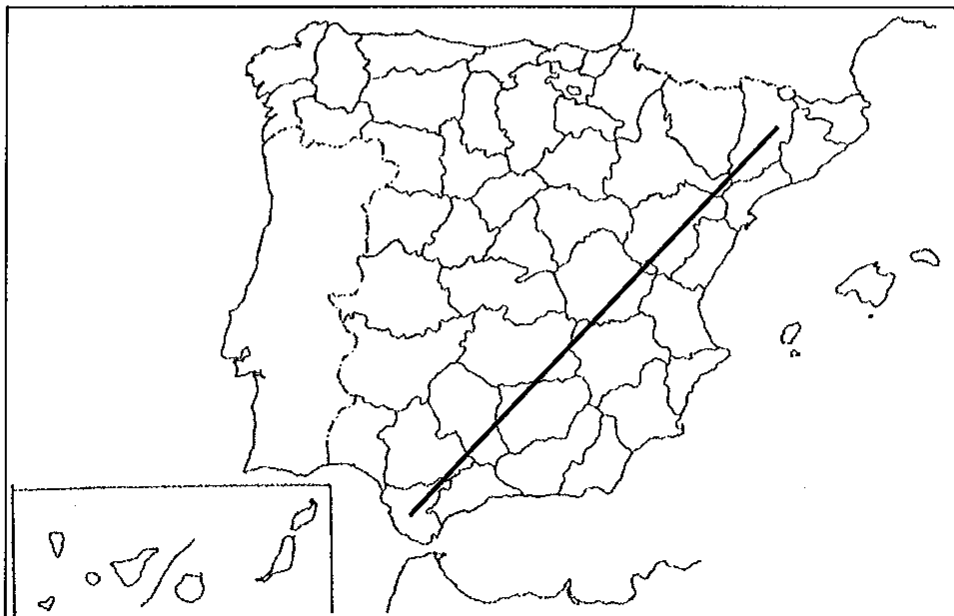
El comentario se desarrollará en la cara de un folio y se valorará con tres puntos.

3.- Defina brevemente los siguientes términos geográficos y ponga algún ejemplo en relación con ellos:

- Efecto Invernadero
- Barlovento
- Fecundidad
- Crecimiento Real
- OCDE

Cada una de las respuestas se valorará con 0.4 puntos, hasta un total de dos puntos.

4.- En uno de los folios del examen, relacione –de NE a SO- las provincias atravesadas por la línea, así como los sistemas montañosos y los ríos principales



La respuesta se valorará con un máximo de dos puntos.