



Prueba de Acceso a la Universidad de Extremadura Curso 2006-07

Asignatura: GEOGRAFÍA DE ESPAÑA

Tiempo máximo de la prueba: 90 minutos

El alumno deberá elegir una de las dos opciones completas de examen, sin posibilidad de que se puedan combinar preguntas de ambos.

La puntuación total de cada una de las opciones será de 10 puntos, pudiendo modificarse en un punto la calificación final por la presentación, ortografía y calidad de redacción, a juicio del corrector.

OPCIÓN A:

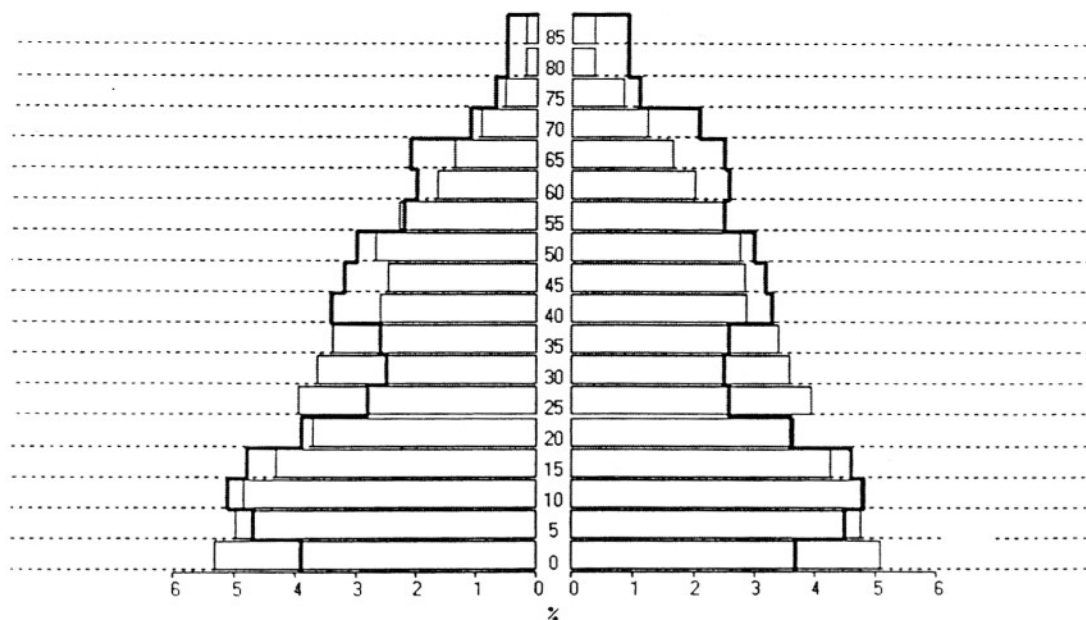
1.- Responda a uno de los temas siguientes:

A.- **Distribución y características de la vegetación natural en España.**

B.- **Evolución del sistema industrial español y de sus factores de localización.**

La respuesta se desarrollará, como máximo, en dos páginas, y se valorará con tres puntos.

2.- Según el siguiente gráfico, con las pirámides de Extremadura de 1960 (en barras) y de 1975 (en perfil):





Prueba de Acceso a la Universidad de Extremadura

Curso 2006-07

Asignatura: GEOGRAFÍA DE ESPAÑA

Tiempo máximo de la prueba: 90 minutos

- a).- Indique las características fundamentales de cada una de estas pirámides.
- b).- Explique sus diferencias y las causas que las han motivado.

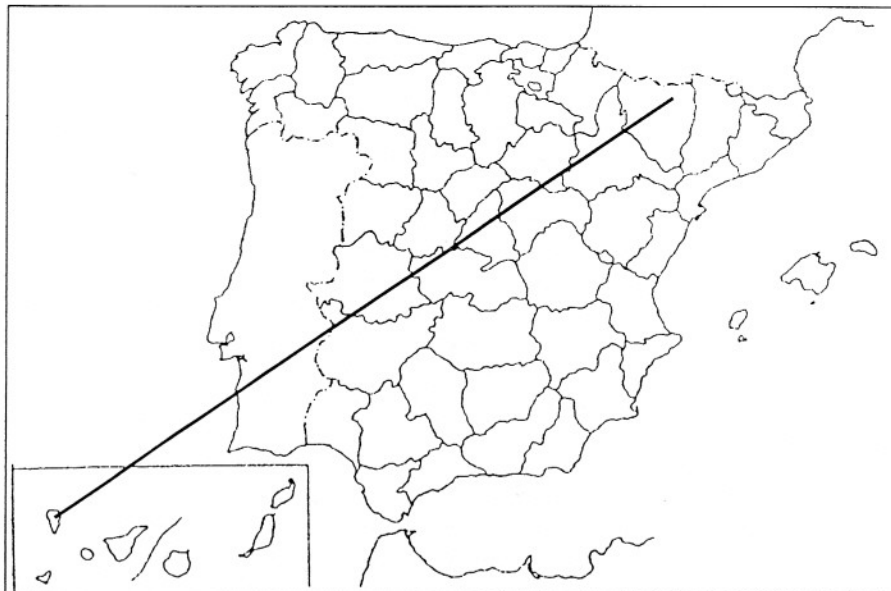
El comentario se desarrollará en la cara de un folio y se valorará con tres puntos.

3.- Defina brevemente los siguientes términos geográficos:

- Meseta
- Agrario
- Acuicultura
- Hinterland
- OCDE

Cada una de las respuestas se valorará con 0.4 puntos, hasta un total de dos puntos.

4.- En uno de los folios del examen, relacione –de NE a SO- las provincias atravesadas por la línea, así como los sistemas montañosos y los ríos principales



La respuesta se valorará con un máximo de dos puntos.



Prueba de Acceso a la Universidad de Extremadura Curso 2006-07

Asignatura: GEOGRAFÍA DE ESPAÑA

Tiempo máximo de la prueba: 90 minutos

El alumno deberá elegir una de las dos opciones completas de examen, sin posibilidad de que se puedan combinar preguntas de ambos.

La puntuación total de cada uno de los repertorios será de 10 puntos, pudiendo modificarse en un punto la calificación final por la presentación, ortografía y calidad de redacción, a juicio del corrector.

OPCIÓN B:

1.- Responda a uno de los temas siguientes:

A.- Las grandes unidades del relieve peninsular.

B.- La España de las autonomías.

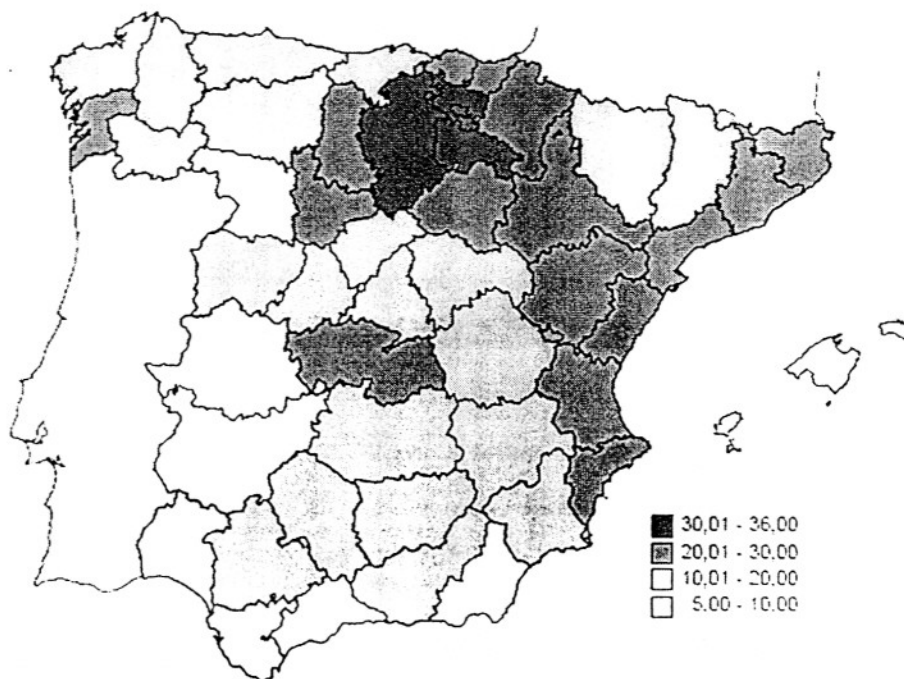
La respuesta se desarrollará, como máximo, en dos páginas, y se valorará con tres puntos.

2.- A la vista del siguiente mapa:

Ocupados en el sector industrial

% sobre total ocupados en la provincia

Primer trimestre 2005





Prueba de acceso a la Universidad de Extremadura Curso 2005-06

Asignatura: GEOGRAFÍA DE ESPAÑA

Tiempo máximo de la prueba: 90 minutos

a).- Indique en qué provincias se registran los porcentajes más altos de población ocupada en la industria

b).- Explique las causas y las consecuencias de este desigual reparto.

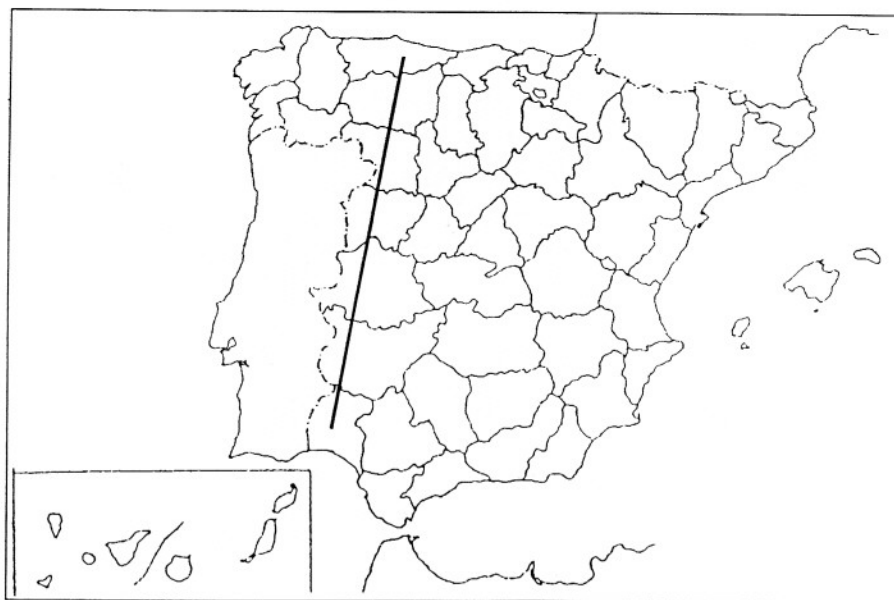
El comentario se desarrollará en la cara de un folio y se valorará con tres puntos.

3.- Defina brevemente los siguientes términos geográficos:

- Cuenca hidrográfica
- Fecundidad
- Latifundio
- PAC
- Área metropolitana

Cada una de las respuestas se valorará con 0.4 puntos, hasta un total de dos puntos.

4.- En uno de los folios del examen, relacione –de Norte a Sur- las provincias atravesadas por la línea, así como los sistemas montañosos y los ríos principales



La respuesta se valorará con un máximo de dos puntos.